

UBND XÃ ĐẠI LỘC
Trường Tiểu học Hứa Tạo

Môn: Toán

Lớp 2

Người thực hiện : Phạm Thị Ninh



KHỞI ĐỘNG





TÔI LÒ AI?

Thứ ... ngày ... tháng ... năm ...


Toán

**PHÉP CỘNG (CÓ NHỚ) SỐ CÓ HAI
CHỮ SỐ VỚI SỐ CÓ HAI CHỮ SỐ**

TIẾT 2



LUYỆN TẬP

The image features Doraemon, a blue robotic cat, sitting inside a red time machine. He has a wide, happy smile and is winking with his right eye. The time machine is a simple red box with a blue front panel and two yellow buttons on the sides. The background is a vibrant, swirling vortex of blue and purple light, with numerous analog clocks of various colors (red, green, yellow) floating around. Some clocks are tilted, and some are broken, suggesting a chaotic or time-warped environment. A speech bubble with a blue dashed border is positioned to the right of Doraemon, containing Vietnamese text.

Các bạn hãy cùng mình ngược dòng thời gian để ngắm nhìn thế giới khủng long nhé!



Chúng mình sẽ đến nơi ở
của các bạn khủng long
ăn cỏ.

Người bạn
hiền lành





luyện tập

1 Đặt tính rồi tính.

$$36 + 36$$

$$\begin{array}{r} 36 \\ + 36 \\ \hline 72 \end{array}$$

$$73 + 17$$

$$\begin{array}{r} 73 \\ + 17 \\ \hline 90 \end{array}$$

$$28 + 53$$

$$\begin{array}{r} 28 \\ + 53 \\ \hline 81 \end{array}$$

$$25 + 35$$

$$\begin{array}{r} 25 \\ + 35 \\ \hline 60 \end{array}$$

Nhìn những bạn khủng long này gai góc thế thôi, nhưng thật ra các bạn ấy đều là khủng long ăn cỏ đấy nhé.



Người bạn
đáng gờm



2 Con tàu nào ghi kết quả đúng?



$$65 + 5 = 70$$

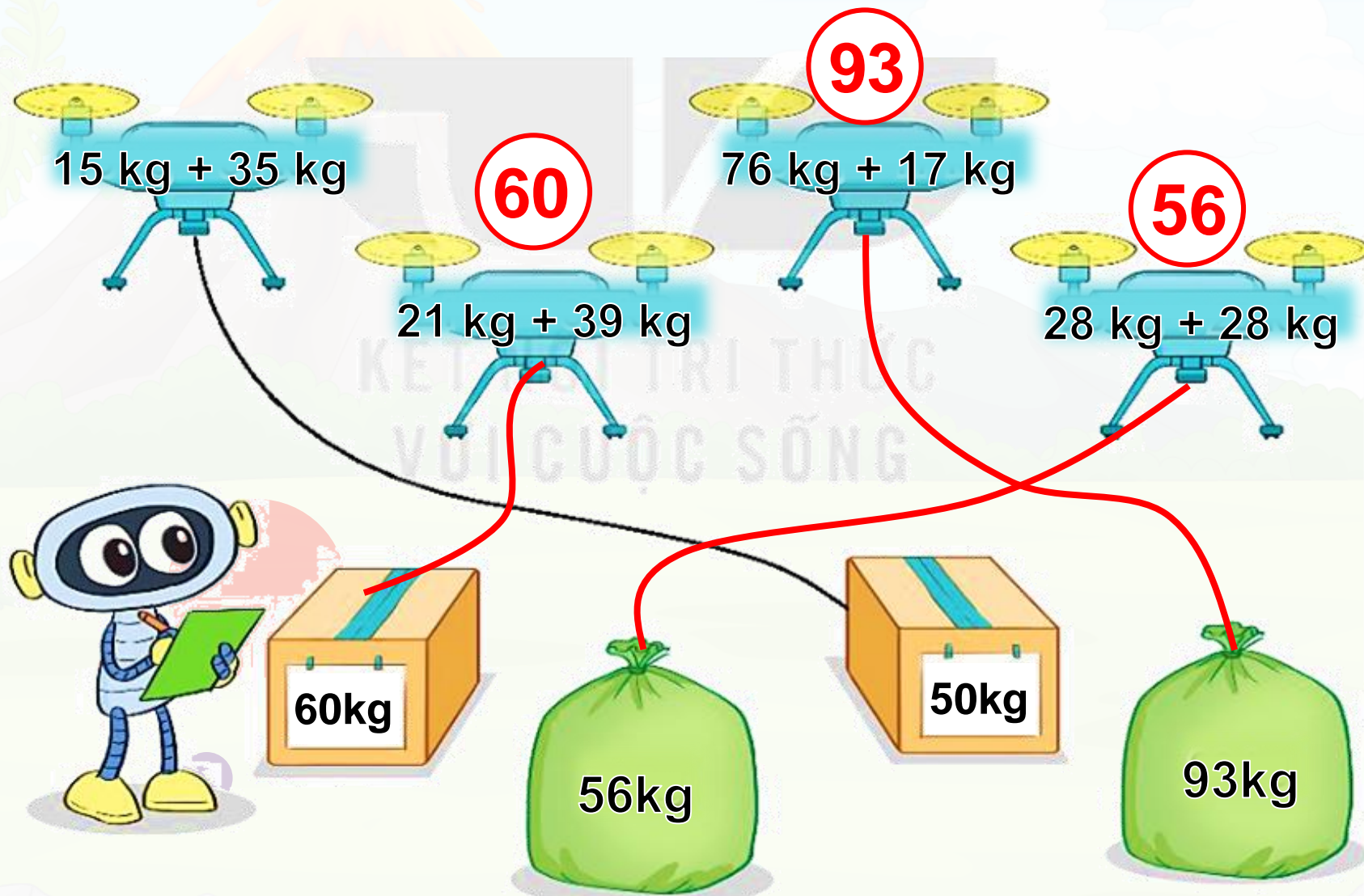
$$23 + 18 = 41$$

$$5 + 41 = 46$$

Đây là khủng long ăn thịt. Hàm răng
và móng vuốt sắc nhọn của các bạn
ấy thật đáng sợ quá đi thôi.



3 Tính rồi tìm thùng hoặc bao hàng thích hợp.



The image shows a matching exercise. A robot is on the left, holding a clipboard. It is connected by a black line to a drone with the math problem $15 \text{ kg} + 35 \text{ kg}$. A red line connects the robot to a box labeled 60 kg . Another red line connects the robot to a bag labeled 56 kg . A red line connects the robot to a bag labeled 93 kg . There are four drones in the top row, each with a math problem and a result in a red circle:

- Drone 1: $15 \text{ kg} + 35 \text{ kg}$ (no result)
- Drone 2: $21 \text{ kg} + 39 \text{ kg}$ with result 60
- Drone 3: $76 \text{ kg} + 17 \text{ kg}$ with result 93
- Drone 4: $28 \text{ kg} + 28 \text{ kg}$ with result 56

At the bottom, there are four items:

- A box labeled 60 kg
- A bag labeled 56 kg
- A box labeled 50 kg
- A bag labeled 93 kg

Connections shown:

- Black line from robot to Drone 1.
- Red line from robot to Box 60 kg .
- Red line from robot to Bag 56 kg .
- Red line from robot to Bag 93 kg .
- Red line from Drone 2 to Box 60 kg .
- Red line from Drone 3 to Bag 93 kg .
- Red line from Drone 4 to Bag 56 kg .

NGƯỜI BẠN
BIẾT BAY





luyện tập

- 4 Ngày thứ nhất, Mai làm được 29 tấm bưu thiếp. Ngày thứ hai, Mai làm được 31 tấm bưu thiếp. Hỏi cả hai ngày Mai làm được bao nhiêu tấm bưu thiếp?

Bài giải

Cả hai ngày Mai làm được số tấm bưu thiếp là:

$$29 + 31 = 60 \text{ (tấm bưu thiếp)}$$

Đáp số: 60 tấm bưu thiếp.



Đây là khủng long duy nhất trên trái đất có thể bay và tự kiếm mồi ngay sau khi chào đời.

NGƯỜI BẠN
NHỎ BÉ



5


Số ?

Kiến đở phải bò qua bụi cỏ để đến cái kẹo.

Kiến đở phải bò **91** cm.

$$37 + 54 = 91$$



A colorful illustration of Doraemon in a prehistoric setting. He is on the left, looking surprised with his mouth wide open. In the background, there is a volcano with orange lava and white smoke, a large green tree, and a blue sky with white clouds. On the right, a green dinosaur with a pinkish-red underbelly is walking. The ground is green with some rocks and plants.

Người bạn này thật nhỏ bé. Kích thước chỉ bằng một con gà tây.

ĐẶN ĐỒ



GV ĐIỀN VÀO ĐÂY



GV ĐIỀN VÀO ĐÂY



GV ĐIỀN VÀO ĐÂY



GV ĐIỀN VÀO ĐÂY





TẠM BIỆT VÀ HẸN GẶP LẠI